



Ebben a dokumentumban az elmúlt évek Világjáró 7. és 8. osztályosoknak szóló feladatlapjaiból válogattunk össze néhány feladatot. Egy feladatlapban általában 5-6 feladat szerepel + a csoportosan dolgozó gyerekeknek + 1 összetettebb feladatot kell megoldani (Csoportos feladat)

A Szabadság szobortól a Golden Gate hídig

Melyik híres városban találhatóak az alábbi építmények? A városokat keressétek meg a szóráscsban és színezzétek ki különböző színűre! Írjátok a nevezetesség mellé a város nevét!

B	M	O	SZ	K	V	A
A	D	A	N	A	R	G
R	P	R	S	E	T	L
C	I	ZS	S	R	CS	H
E	R	Á	R	T	B	A
L	O	N	D	O	N	SZ
O	Á	G	A	A	K	A
N	E	W	Y	O	R	K
A	P	A	V	Ó	B	U

Kreml - _____

Potala-palota - _____

Alhambra - _____

Empire State Building - _____

Sagrada Familia- _____

Buckingham palota - _____



Melyik épületre gondoltunk, és hol található?

1. _____

Ez a vallási emlékmű a Corcovado-hegy gránittömbjén emelkedik. A szobor jelenleg egy dél-amerikai ország volt fővárosában található, de Párizsban készült, *art deco* stílusban. Az egyetlen 20. századi építmény, amely bekerült a világ hét új csodája közé.

2. _____

A Jamuna folyó partján található mauzóleum része ez a csodálatos fehér márványból készült síremlék. Évente 2,5 millió látogató keresi fel.

3. _____

Ezt az ókori amfiteátrumot Vespasianus császár kezdte építeni, és Titus avatta fel szertartásos ünnepség keretében. Egyszerre akár 70 ezer ember is nézhette a véres gladiátorviadalokat.

4. _____

Az ismeretlen dán építész betonból tervezett vitorlákkal képzelte el az építmény tetejét. Építésznyelven az *elliptikus parabolákat* számítógépek segítségével sikerült megtervezni. Az építkezésnél felmerültek anyagi nehézségek is. Ezt lottóbevételekből fedezték.

5. _____

Egy világkiállításra épült, a technikai forradalom jelképének is tekinthetjük. Merész bizonyítékául annak, hogy a XIX. század végétől a megfelelő műszaki ismeretek birtokában az ember egyre magasabb építmények létrehozására képes.



7. és 8. osztály – Mintafeladatok

Irány Amerika!

Nagy városok Észak Amerikában

Találjátok ki, melyik városra gondoltunk, írjátok le helyesen, majd írjátok mellé, melyik államban található! Mi jut eszetekbe erről a városról? Írjátok le egy mondatban! Végül nevezetek meg egy nevezetességet, amely itt található!

Város	állam	mondat	nevezetesség
OSTBON			
AHOICCG			
LALASD			
GSOLES NALE			
TEATESL			
YEW KONR			



A Világjáró naplója

A világban kalandozni, akár csak képzeletben is, egy izgalmas és csodálatos dolog. Versenyünk valamennyi fordulójában el fog kísérni benneteket ez a feladat. Ti, a Világutazók egy naplót vezettek, és fordulónként egy-egy naplóbejegyzést készítetek az adott helyről megadott szempontok alapján.

Ezt a feladatot mindig külön lapon készítsétek el, és egy naplóhoz hűen illusztráljátok! Terjedelme egy, maximum kettő A4-es lap legyen! A feladat megoldásánál végezzetek kutatómunkát az adott helyről, tehát munkátok tartalmazzon tényszerű információkat, és természetesen használjátok a fantáziátokat is! Az értékelésnél pontozzuk a tartalmi elemeket (a feladat instrukciójának megfelelően), a fogalmazást és az illusztrációt.

Képzeljétek el, hogy egy külföldi magazin újságírói vagytok, és Budapestre látogattok! Válasszátok ki azt a nevezetességet, amely a legjobban tetszett, és írjatok róla egy A/4 oldalas kézzel írott képes beszámolót! Írjatok néhány sort a történelmi háttéréről, de leginkább arra vagyunk kíváncsiak, mi az, ami miatt ez a nevezetesség volt rátok a legnagyobb hatással.



7. és 8. osztály – Mintafeladatok

Európa természeti kincsei

A keresztrejtvényben országok neveit kell kitalálnod. Segítségül megadjuk az országban található, turisták által szívesen látogatott természeti képződményt. Ha a vízszintes sorokat helyesen megfejted, függőlegesen megkapod az egyik Közép-Európai ország nevét.

1. Legnagyobb kiterjedésű szigete Rügen.
2. Itt található a Hernád-áttörés.
3. Az Elba forrásvidékét magában foglaló Óriás-hegység a belföldi turizmus fontos célpontja.
4. Bialystoki nemzeti parkjában található az utolsó európai bölény faj.
5. Postojnai cseppkőbarlangja 20 km hosszan húzódik a felszín alatt.
6. Messzire elnyúló, fokozatosan elkeskenyedő parti sávja Dalmácia.
7. Fő idegenforgalmi látványossága a XIX. század közepén hegyomlással keletkezett Gyilkos-tó.
8. Hegymászó paradicsoma a Suva Planina.
9. Raftingolásra kiválóan alkalmas folyója a Samina.
10. A leghosszabb gleccsere a Pasterze.
11. 2091m magasságban található szorosa a Szent Gotthard-hágó, mely már az ókorban is fontos közlekedési útvonal volt.
12. Itt fekszik a Rózsák-völgye.

1.																								
2.																								
3.																								
4.																								
5.																								
6.																								
7.																								
8.																								
9.																								
10.																								
11.																								
12.																								

MEGFEJTÉS



Csoportos feladat

A Kilenclyukú hídtól a Tűztoronyig címmel készítsetek egy képes beszámolót Magyarország leghíresebb turisztikai látványosságairól! Munkátokat max. A/4-es méretben készítsétek!

Szemponatok:

- Készítsetek egy borítót!
- Írjatok egy 20-as listát, amelyben közösen egyeztek meg Magyarország számotokra leghíresebb nevezetességeiről!
- Válasszatok ki ezek közül hatot, és mutassátok be illusztrációval együtt!
- Munkátok végén néhány sorban írja le mindenki külön-külön, hogy

A Kárpát-medence és a Kárpátok

A betűkígyóban szomszédos országaink két városának betűi keveredtek össze. Rakjátok össze a városok neveit a betűkből, majd csoportosítsátok őket országok szerint! Az ország neveket Nektek kell megadnotok. A nagybetűk a városok kezdőbetűit jelölik. (Minden betűt fel kell használnod a hibátlan megoldáshoz, a városok neveit magyarul adtuk meg)

AaaaaaaaaaaaaáááEeeéiioooSsssssUuKKkkkPpprrrrrr
rrrNnnnnggVvvMMcydddddZzzzzbbtLG

ország:	városai:
ország:	városai:
ország:	városai:
ország:	városai:
ország:	városai:
ország:	városai:
ország:	városai:



7. és 8. osztály – Mintafeladatok

Ha a keresztrejtvényt megfejtitek, megtudhatjátok a Kárpátok legmagasabb kiemelkedésének a nevét. (Kötőjeleket nem jelöltük)

1. Kárpátok éghajlata
2. Ilyen vulkáni koszorúhoz tartozik a Börzsöny
3. A Kárpátok veszélyeztetett emlősállata
4. Ilyen kőzet is található a Kárpátokban
5. Ebben a földtörténeti időszakban keletkezett a Kárpátok
6. Kárpátok koszorúja veszi körbe
7. Csomád-hegység tőzeglápja
8. A Kárpátok folyói ennek a tengernek a vízgyűjtőjéhez tartoznak (Visztula kivételével)
9. Vulkanári kráterben kialakult tó
10. A Déli-Kárpátok folyója (Vöröstoronyi-szorosnál hagyja el a Kárpátokat)
11. Termetes és félelmetes emlősállata a Kárpátoknak
12. Ennek a hegységrendszernek a tagja a Kárpátok
13. A kárpáti fenyvesek elsődleges erdőalkotó fája
14. A Kárpátok Gyilkos-tó közelében található szorososa
15. A Kárpátokban található a legnagyobb állománya a kontinensen (emlős)
16. Egyik legfontosabb hágója a Kárpátoknak
17. Kárpátok hossza km-ben

1.																			
2.																			
3.																			
4.																			
5.																			
6.																			
7.																			
8.																			
9.																			
10.																			
11.																			
12.																			
13.																			
14.																			
15.																			
16.																			
17.																			

megfejtés:



A Magas-Tátra kedvelt kirándulóhelye sok magyar családnak. Nyáron napokig lehet a vadregényes túra utakon barangolni, télen pedig sokan választják síelésük helyszínéül.

Tudjunk meg többet erről a csodaszép vidékről! Olvassátok el az alábbi cikket, majd válaszoljatok a kérdésekre!

<http://www.vysoketatry.com/10naj/hu.html>

Soroljatok fel 3 települést, amelyek a Magas Tátrában találhatóak!

Hány méter magasan fekszik a Lomnici csúcs?

Mi a Skalnaté pleso magyar neve?

Mit találhatunk a Lomnici csúcson?

Milyen kő alkotja a Bélai Cseppkőbarlangot?

Milyen eredetűek a tátrai tengerszemek?

Soroljatok fel 3 a Magas Tátrában található tengerszemet!

Mi a neve a Magas-Tátra legmagasabb sziklafalának, és hány méter magas?

A világjáró naplója

3 napos osztálykirándulásra mentek a Magas-Tátrába. Írjatok egy élménybeszámolót az iskolaújságba a kirándulásról! Hol jártatok, milyen túraútvonalakat jártatok be, milyen különleges növényekkel, állatokkal találkoztatok? Munkátokat illusztráljátok is! Naplóbejegyzésetek terjedelme minimum 2, maximum 3 oldal legyen!



Csoportos feladat

Készítsetek egy 10 oldalas kulturális ajánlót a Kárpátokról!
Írjatok könyvekről, filmekről, zenékről! Egy ajánló 2 oldalas legyen,
így összesen 5 ajánlót kell írnotok! Mindegyikhez készítsetek
illusztrációt!

Hazánk éghajlata

Időjárással kapcsolatos népi megfigyelések

Ezek az elnevezések a régmúlt időkből maradtak ránk mikor a várható időjárást illetően csak saját megfigyeléseikre, tapasztalataikra hagyatkozhattak az emberek. Természetesen ezen megfigyelések alapján kialakított szabályszerűségek a mai tudásunk mellett gyakran furcsának tűnnek, azonban beválásukat vizsgálva némelyik meglepően jó arányt mutat.

Feladatod a táblázat kitöltése a mai földrajzi ismeretek alapján.

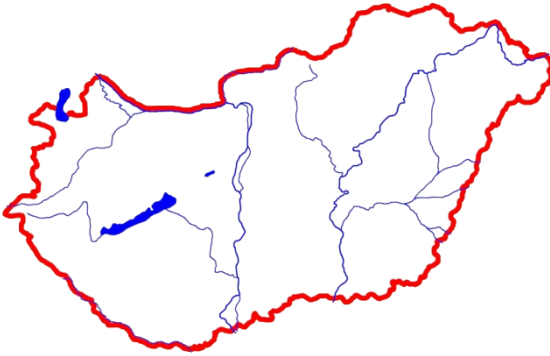
„Jeles napok” hazánk időjárásában	Mely időpontokra esik? (ahol lehet pontos dátumot kérünk)	Milyen változást hoz időjárásunkban?	Mi okozza a változást?
„Fagyosszentek”			
Medárd nap			



„Vénasszonyok nyara”			
----------------------	--	--	--

1. Válassz ki három napot a forduló ideje alatt, és az ország térképére rajzold meg az ismert meteorológiai ikonokkal, hogy milyen időjárás volt ezeken a napokon. Válaszolj a térkép alatti kérdésekre!

nappal



éjszaka

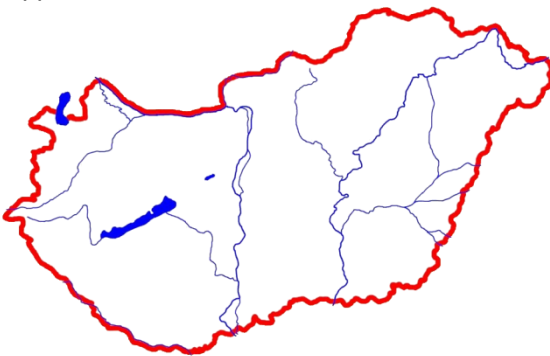


Dátum:

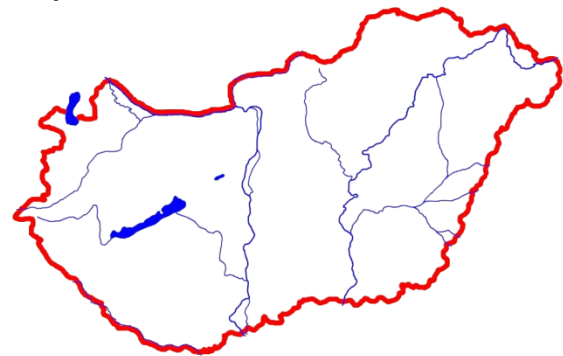
Milyen légköri képződmény alakítja ezen a napon időjárásunkat és ez mit eredményez?

.....
.....
.....

nappal



éjszaka



Dátum:

Milyen légköri képződmény alakítja ezen a napon időjárásunkat és ez mit eredményez?

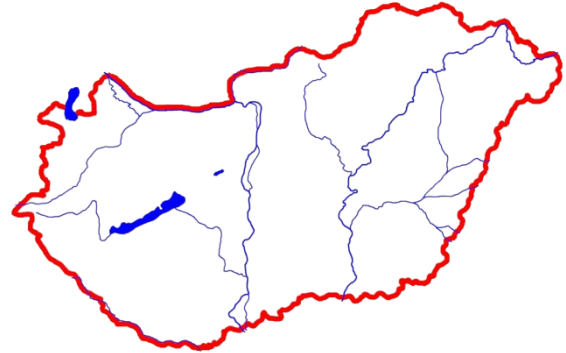
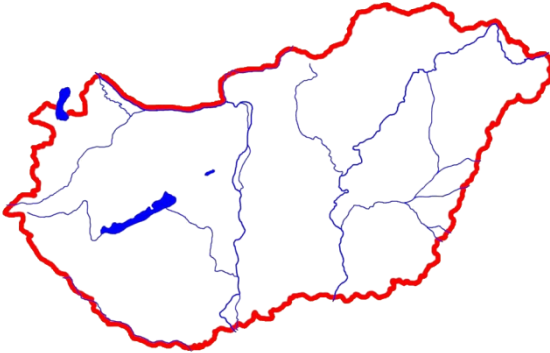
.....
.....



.....
.....

nappal

éjszaka



Dátum:

Milyen légköri képződmény alakítja ezen a napon időjárásunkat és ez mit eredményez?

.....
.....
.....
.....

- 2. A szövegben 10 szó hibásan szerepel. Feladatod, hogy ezeket a szavakat kék színnel húzd alá, majd írd ki a pontozott vonalra. Írd melléjük a javított megoldást. (Csak szavakat kell javítanod, és nem mondatokat!)**

A csapadék zömét az Atlanti-óceán felől érkező anticiklonok szállítják, melynek mennyisége nyugatról kelet felé nő. A hegységek előtt leszállásra kényszerülő légtömegeknek köszönhetően nemcsak a hegységeinkben, hanem az Alföld közepén is megnövekszik kissé a csapadék. Ennek megfelelően a csapadék területi eloszlásában elég kicsi különbségek mutatkoznak. A legcsapadékosabb a Visegrádi-hegység, itt 1500 mm feletti csapadék hullik átlagban évente. Az Alföld központi részén 550 mm feletti az évi csapadék. A legkevesebb csapadékot a Tiszazug kapja. A csapadék évi járásának legfőbb sajátossága a nyár eleji csapadékminimum, a legtöbb csapadék pedig januárban és februárban hullik.

.....
.....
.....
.....
.....
.....
.....
.....



7. és 8. osztály – Mintafeladatok

Számok a földrajzban

Ha a megfelelő számokat a megfelelő helyre beírod, megismerheted Magyarország napsugárzási viszonyait.

1950, 40-47, 55-60, 4200-4700, 54-66, 4448, 2150, 262, 15-20, 480,

A besugárzás évi összege hazánkban MJm^{-2} között változik. A csillagászatilag lehetséges évi napfénytartamot a földrajzi szélesség határozza meg. Ennek értéke hazánkban kb.: óra. A tényleges napfénytartamot, amely %-a a lehetséges értéknek, alapvetően a felhőzettség mértéke befolyásolja. A borultság hazánkban, vagyis az évi átlagos felhőzet % között változik. A napsütéses órák átlagos évi összege az Alpokalján, a Duna-Tisza közének déli felében óra fölé emelkedik. A lehetséges napfénytartam legmagasabb júniusban, kb.: óra, és a legalacsonyabb decemberben, akkor kb.: óra. A borultság mértéke decemberben a legnagyobb és júliusban, augusztusban a legkisebb. A tényleges napfénytartam ennek megfelelően decemberben mindössze %, júliusban viszont eléri az %-ot.

Csoportos

Készítsetek egy tablót a következő címmel: Évszakok (ide a városotokat, falvatokat írjátok be) Pl.: Évszakok Győrben

- Osszátok a posztert 4 részre! Minden rész 1-1 évszakot szimbolizáljon.
- Illusztráljátok az adott évszakot a városotokra/falvatokra jellemző képekkel!
- Minden részhez írjátok 4-5 mondatot, ami arra az évszakra jellemző nálatok!



Mindent a vízről



Keressetek 10 szót a szórácsban, majd írjátok be 2 csoportba! A csoportoknak ti adjatok nevet!

F	O	LY	A	M	K
O	E	L	Á	P	M
LY	A	R	É	R	O
Ó	CS	B	T	H	CS
R	V	I	Ó	Ő	Á
T	E	N	G	E	R
CS	E	R	M	E	LY
P	A	T	A	K	A



Víz-kvíz

Válaszoljatok a kérdésekre egész mondattal!

1. Ki a tenger istene a római mitológiában?

2. Mikor ünnepeljük a víz világnapját?

3. Miért fontos, hogy megemlékezzünk vizeink védelméről?

4. Melyik bolygón találtak 2008 májusában vizet?

5. Melyik Európa legmelegebb vizű tava?

6. Mikor van a Tisza élővilágának emléknapja?

7. Mekkora a Balaton tengerszint-feletti magassága?



7. és 8. osztály – Mintafeladatok

8. Mely országokban található a következő tavak?

Viktória-tó - _____

Garda-tó - _____

Michigan-tó - _____

Nagy Rabszolga-tó - _____

Bajkál-tó - _____

Genfi-tó - _____

Víz –lexikon

Nézzetek utána, mit jelentene a következő szavak és kifejezések!

Mindegyikről írjatok 1-1 mondatot!

holtág :

morotvatavak :

talajvíz:

belvíz:

karsztvíz:

hévíz :

Vízlábnyom



Mindennapi életvitelünk nyomot hagy a Földön. Életmódunk, döntéseink befolyásolják, mennyit élünk föl a Föld javaiból. Az ökolábnyom azt fejezi ki, hogy életvitelünk mennyire terheli meg a természeti környezetet. Kifejezi, mekkora területre lenne



7. és 8. osztály – Mintafeladatok

szükségünk ahhoz, hogy hosszú távon, a környezet károsítása nélkül legyen megtermelhető az élelem, előállítható az energia, az üzemanyag, az építőanyag, a kényelmünket szolgáló gépek, ruhák, használati tárgyak stb., és azt, hogy mekkora területen lenne eltüntethető a mindezzel járó hulladék.

A vízhasználatnak is van ökológiai lábnyoma. Nézzetek utána, mit is jelent a „vízlábnyom”, majd válaszoljatok a kérdésekre!

1. Mit jelent a belső vízlábnyom?

2. A vízlábnyom kék-, zöld- és szürkevízből tevődik össze. Mit jelentenek ezek. Adjátok meg mindhárom szín definícióját!

3. Mennyi vizet igényel egy kg marhahús előállítása?

4. Mennyi vizet igényel egy csésze kávé előállítása?

5. Mi veszélyezteti a Föld édesvízkészletét? Soroljatok fel legalább öt dolgot!



A Világjáró naplója

A világban kalandozni, akár csak képzeletben is, egy izgalmas és csodálatos dolog. Versenyünk valamennyi fordulójában el fog kísérfni benneteket ez a feladat. Ti, a Világutazók egy naplót vezettek, és fordulónként egy-egy naplóbejegyzést készítetek az adott helyről megadott szempontok alapján.

Ezt a feladatot mindig külön lapon készítsétek el, és egy naplóhoz hűen illusztráljátok! Terjedelme egy, maximum kettő A4-es lap legyen! A feladat megoldásánál végezzetek kutatómunkát az adott helyről, tehát munkátok tartalmazzon tényszerű információkat, és természetesen használjátok a fantáziátokat is! Az értékelésnél pontozzuk a tartalmi elemeket (a feladat instrukciójának megfelelően), a fogalmazást és az illusztrációt.



Képzeljétek el, hogy részt vettetek egy tanösvény-túrán! Válasszatok ki egy tanösvényt és készítsétek egy rövid beszámolót a tapasztalataitokról! Írjátok le, hol található a tanösvény, milyen növény és állatvilágot láttatok és mi tetszett a legjobban túrátok során!

Ezek közül a tanösvények közül választhattok:

Szigetköz, Velencei-tó, Kis-Balaton, Tisza-tó



7. és 8. osztály – Mintafeladatok

Extra csoportos feladat

Készítsetek egy 10 diából álló Power Point bemutatót az alábbi témában:

Kutassatok hasznos és okos vízmegtartó technikák/technológiák után a háztartásban! Soroljatok fel legalább 8-at! Adjatok címet munkátoknak! A bevezetőben magyarázzátok el, szerintetek miért kell spórolni a vízzel, a befejező diákon pedig mutassátok be, ti mit használtok e technikák közül!

A prezentációt a foldrajzverseny@hebe.hu címre küldjétek el!

Fedezzük fel Ausztráliát!

Ha az Ausztráliáról szóló keresztrejtvényt helyesen megfejtitek, megtudjátok, hogy melyik hegységrendszer tagja a kontinens keleti peremén húzódó Nagy – Vízálasztó - hegység. (A szavakat elválasztó gondolatjeleket elhagytuk a megfejtéseknél)

1. Ennek az államnak a legnagyobb városa Melbourne.
2. A XVII. században csaknem teljesen körülhajózta a kontinenst. Új-Hollandiának nevezte el. Ki ő?
3. A világ legnagyobb szigethegyének tartott sziklatömb neve Ausztráliában.
4. Az őslakosok által behurcolt házi kutya elvadult utódja.
5. Ausztrália különleges emlőse.
6. Földünk leghatalmasabb összefüggő korallképződménye.
7. Ausztrália első telepesei voltak. Kik ők?
8. Az őslakosok keményfából készült, görbe hajító fegyvere.
9. Ausztrália legmagasabb hegycsúcsa.
10. Ausztrália nevezetes futómadara.
11. Földünk egyik legnagyobb rétegvíz medencéje Ausztráliában található. Melyik ez?



7. és 8. osztály – Mintafeladatok

Jó két évszázaddal ezelőtt 1. _____ vitorlásból álló 2. _____ hajózott be a csodálatos öbölbe, melynek partján később 3. _____ fölépült. A 4. _____ 1788. január 26-án szálltak partra, s alapították meg az első települést Ausztráliában. Ez a nap az „Australia Day”, az ország 5. _____ ünnepe. A kezdet nem volt dicsőséges: a Brit Birodalom a távoli országot fegyventelepnek szemelte ki: az anyaországban akkoriban minden 6. _____ zsúfolásig megtelt. Nem csoda, hisz büntetés járt azért, ha valaki éhségében élelmet lopott vagy rebellis beszédet mondott a 7. _____ ellen.

8. _____ eredetileg amerikai gyarmatokra akarta száműzni a foglyokat, de a 9. _____ 1781-ben kiharcolták függetlenségüket. Ekkor jutott eszébe a koronatanácsnak, hogy 10. _____ 1770-ben felfedezett egy szigetet, s 11. _____ felségterületté nyilvánította.

Azóta a zseniális tengerészt, a Royal Navy kapitányát illeti a dicsőség, hogy ő 12. _____ felfedezője.

Ausztrália legfontosabb ásványkincseit rejtettük el a betűrácsban. (13 ásványkincs) Keressétek meg őket, színezzétek ki a megfelelő betűket egy általatok választott színnel, és a talált ásványkincs nevét íjátok a pontozott vonalakra! (a szavak csak lefele, jobbra és átlósan előre lehetnek)

S	Á	A	R	A	N	Y	D	U	R	Á	N
V	T	A	E	B	A	U	X	I	T	I	É
C	V	A	D	F	O	K	T	I	T	Á	N
Á	N	A	M	K	C	F	Ő	U	P	Y	D
W	E	R	S	T	Z	U	I	S	R	É	Z
P	Ő	Ú	S	É	A	D	F	G	Z	H	J
N	C	I	N	K	R	K	L	É	Á	É	Ú
Í	I	Y	X	C	V	C	Ó	L	O	M	N
H	J	K	M	A	N	G	Á	N	B	N	M
G	U	R	K	E	Z	Ü	S	T	L	U	I
A	S	Ü	Z	E	N	C	I	R	K	O	N
M	L	V	Í	É	L	E	D	K	E	L	Ő



**A betűkigyóban Ausztrália nagyvárosainak betűi keveredtek össze.
Keressétek meg őket, és helyezzétek el a megfelelő négyzetrácsokban!
Minden betűt fel kell használnotok, de csak egyszer.**

CDPHDSNMABORIDNAYAYAEBSEBUEAIBERNELEEEERTBRL

1.

--	--	--	--	--	--

2.

--	--	--	--	--	--	--	--

3.

--	--	--	--	--	--	--	--

4.

--	--	--	--	--	--	--	--	--	--

5.

--	--	--	--	--	--	--	--

6.

--	--	--	--	--



A Világjáró naplója

A világban kalandozni, akár csak képzeletben is, egy izgalmas és csodálatos dolog. Versenyünk valamennyi fordulójában el fog kísérni benneteket ez a feladat. Ti, a Világutazók egy naplót vezettek, és fordulónként egy-egy naplóbejegyzést készítetek az adott helyről megadott szempontok alapján.

Ezt a feladatot mindig külön lapon készítsétek el, és egy naplóhoz hűen illusztráljátok! Terjedelme egy, maximum kettő A4-es lap legyen! A feladat megoldásánál végezzetek kutatómunkát az adott helyről, tehát munkátok tartalmazzon tényszerű információkat, és természetesen használjátok a fantáziátokat is! Az értékelésnél pontozzuk a tartalmi elemeket (a feladat instrukciójának megfelelően), a fogalmazást és az illusztrációt.

Képzeljétek azt, hogy részt vesztek egy Ausztrál körutazásban, amelynek egyik állomása az őslakosok szent helye az Ulluru, azaz Ayers Rock. Írjatok egy részletes beszámolót a látogatásotokról! Említsétek meg a hely történetét, jelentőségét az őslakosok számára! Milyen benyomást tett rátok a naplementekor aranyba öltöző sziklaóriás? Rajzoljátok le, milyennek láttátok!